

Exercices sur le thermomètre

Exercice 1

Choisir la bonne réponse:

1- Quel instrument sert à mesurer la température?

- ✓ Chronomètre
- ✓ Baromètre
- ✓ Thermomètre

2- Dans quelle unité se mesure la température?

- ✓ Millimètre
- ✓ Degrés
- ✓ Gramme

3- Plus un corps est froid plus la température est élevée

- ✓ Vrai
- ✓ Faux

Exercice 2

Colorie en rouge la maison où il fait le plus chaud



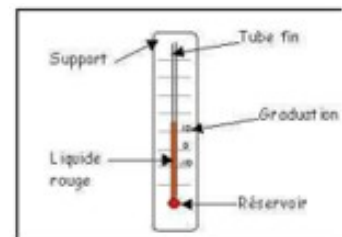
colorie en bleu l'igloo où il fait le plus froid



Exercice 3

Observer, décrire et utiliser différents modèles de thermomètres. Réaliser le schéma du thermomètre et le légender.

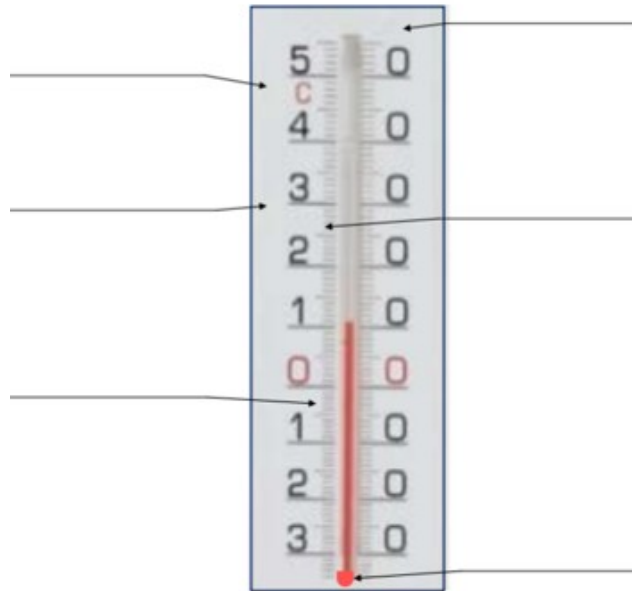
- Observer et classer des thermomètres apportés par les élèves
- A quoi sert un thermomètre?
- Schéma et différentes parties d'un thermomètre.



Exercice 4

Les différentes parties d'un thermomètre

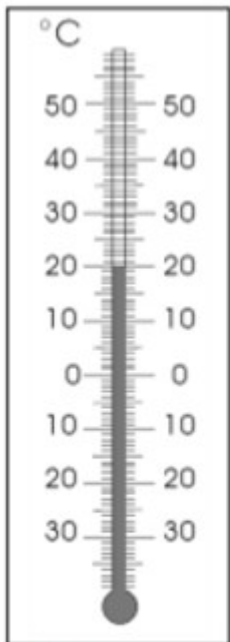
Compléter les légendes.




Exercice 5

Écris la température indiquée par le thermomètre

Dessine en rouge la température indiquée



Il fait _____ C°



Il fait _____ C°

