

VECTEUR DU PLAN : Opérations sur les vecteurs

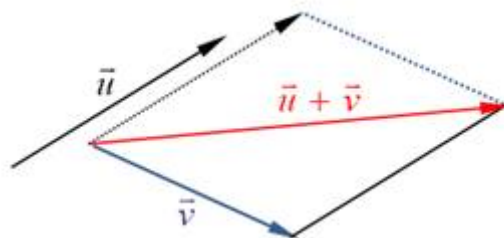
1. Addition de deux vecteurs

1.1 Addition

1.1.1 La règle du parallélogramme

Soient \vec{u} et \vec{v} deux vecteurs.

On amène les origines des deux vecteurs \vec{u} et \vec{v} en un même point (par exemple l'origine de \vec{u}). On trace un parallélogramme dont les vecteurs \vec{u} et \vec{v} sont deux côtés. La somme $\vec{u} + \vec{v}$ est alors la diagonale du parallélogramme partant de l'origine.

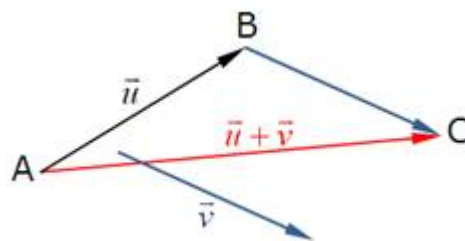


1.1.2 Méthode du triangle ou de Chasles


On trace le représentant de \vec{v} partant de l'extrémité de \vec{u} . On joint l'origine de \vec{u} avec l'extrémité du représentant de \vec{v} que l'on vient de tracer. On obtient alors un représentant de $\vec{u} + \vec{v}$

ou encore, avec la relation de Chasles en partant de l'origine A de \vec{v} on a :

$$\vec{u} + \vec{v} = \overrightarrow{AB} + \overrightarrow{BC} = \overrightarrow{AC}$$



Exercice : (AB) est une droite , C et D sont des points sur la droite (voir figure)



Placer les points C et E tel que $\overrightarrow{BC} = \overrightarrow{AD}$ et $\overrightarrow{AE} = \overrightarrow{AB} - \overrightarrow{AD}$

2. Multiplication d'un vecteur par un réel

2.1 Définition

Soit \vec{u} un vecteur non nul et k un réel non nul. Le produit du vecteur \vec{u} par le réel k est le vecteur \vec{w} noté $k\vec{u}$ qui a même direction que \vec{u} , même sens que \vec{u} si $k > 0$ et de sens contraire si $k < 0$; et admet pour norme $|k| \|\vec{u}\|$.

2.2 Propriétés

- $k\vec{u} = \vec{0}$ si et seulement si, $k = 0$ ou $\vec{u} = \vec{0}$
- $k(\vec{u} + \vec{v}) = k\vec{u} + k\vec{v}$
- $(k+k')\vec{u} = k\vec{u} + k'\vec{u}$

Exercice : Exprimer simplement le vecteur \vec{w} en fonction des vecteurs \vec{u} et \vec{v} sachant que :

$$\vec{w} = 2(3\vec{u} - 2\vec{v}) + \frac{1}{2}(-2\vec{u} + 4\vec{v})$$

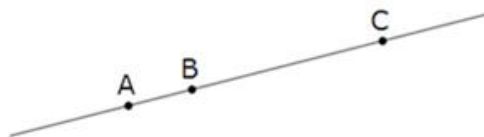
2.3 Vecteurs colinéaires

On dit que les vecteurs \vec{u} et \vec{v} sont colinéaires s'il existe un nombre réel k tel que $\vec{u} = k\vec{v}$ ou bien $\vec{v} = k\vec{u}$



Exercice : Soit \vec{u} et \vec{v} deux vecteurs du plan vérifiant $2\vec{u} + 4\vec{v} = \vec{0}$ Montrer que \vec{u} et \vec{v} sont colinéaires.

Les points A, B, C sont alignés si les vecteurs \vec{AB} et \vec{AC} sont colinéaires.



Les droites (AB) et (CD) sont parallèles si les vecteurs \vec{AB} et \vec{CD} sont colinéaires.

2.4 Vecteurs et homothéties

L'homothétie h de centre Ω et de rapport k transforme un point M en un point M' tel que :

$$\vec{\Omega M'} = k\vec{\Omega M}$$