

# Oscillations électriques forcées en régime sinusoïdal

On a vu dans le régime libre que si un circuit RLC série peut effectuer des oscillations libres, celles-ci cessent plus au moins rapidement a cause de l'amortissement dû à sa résistance.

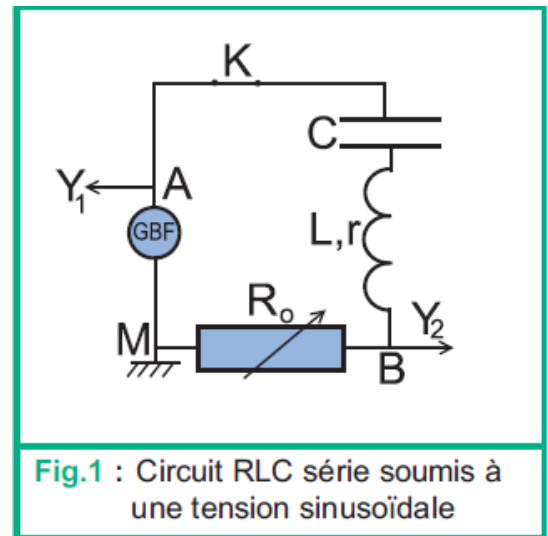
Quel sera l'effet de l'application d'une tension sinusoïdale aux bornes d'un tel oscillateur, une simple compensation de l'amortissement ou plus ?

## 1. Réponse d'un circuit RLC série à une tension sinusoïdale

### 1.1 Production d'oscillations forcées

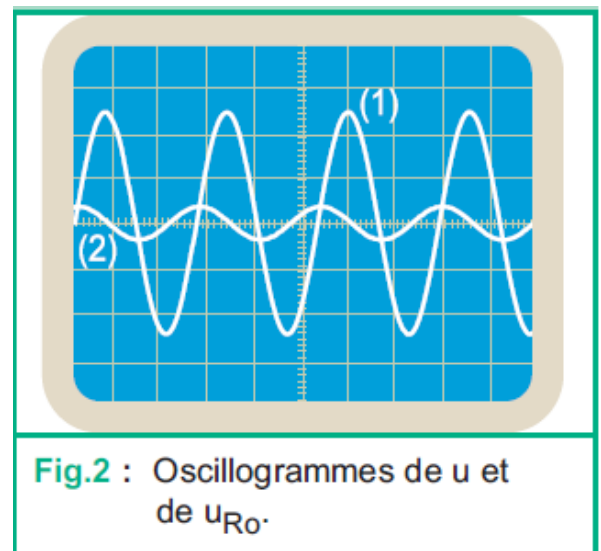
#### Expérience

On réalise le montage de la figure 1 : il s'agit d'un circuit RLC série fermé sur un GBF (generateur basse fréquence) délivrant une tension sinusoïdale  $u(t)$  de fréquence  $N$  réglable :  $u(t) = U_m \cdot \sin \omega t$ ,  $U_m$  étant maintenue constante. Le circuit RLC série est constitué d'un resistor de résistance  $R_o$  réglable, d'un condensateur de capacité  $C = 0,47 \mu\text{F}$  et d'une bobine d'inductance  $L = 0,2 \text{ H}$  et de résistance interne  $r = 12,5 \Omega$  ((Fig.1).

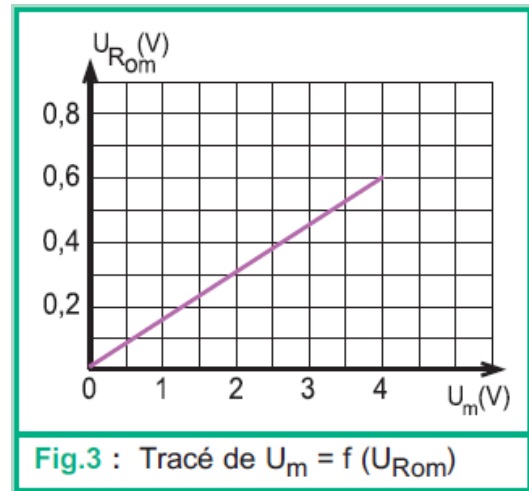


Pour suivre simultanément l'évolution de la tension  $u$  délivrée par le GBF entre ses bornes et celle de l'intensité  $i$  du courant débite dans le circuit, on relie a un oscilloscope bicourbe, le point M à la masse, le point A à la voie Y1 et le point B à la voie Y2 .

On fixe  $N$  a la valeur 400 Hz,  $U_m$  à 2 V et  $R_o$  à 50  $\Omega$  par exemple. Lorsque l'interrupteur K est ouvert, on observe sur l'écran de l'oscilloscope uniquement l'oscillogramme (1) de la figure 2. En fermant le circuit, on observe sur l'écran de l'oscilloscope les oscillogrammes stables (1) et (2) (Fig.2) avec la sensibilité 1 ms/div.



La fréquence étant toujours égale à 400 Hz, on réalise une série de mesures de  $U_{R_{om}}$  en fonction de  $U_m$ . Les résultats de mesures ont permis d'obtenir le trace de la figure 3.



### Questions

- 1°) Comparer la forme de l'oscillogramme représentant  $i(t)$  à celle de  $u(t)$ .
- 2°) Mesurer la fréquence  $N$  de  $i(t)$  et la comparer à celle de  $u(t)$ .
- 3°) Comparer la fréquence  $N$  à la fréquence propre  $N_0$  de l'oscillateur.
- 4°)
  - a) A l'aide de la courbe de la figure 3, montrer que :  $U_m = kU_{R_{om}}$ , où  $k$  est une constante que l'on calculera.
  - b) Montrer que la tension maximale  $U_m$  peut s'écrire en fonction de l'intensité maximale  $I_m$  sous la forme :  $U_m = Z I_m$  où  $Z$  est une constante dont on déterminera la dimension.

### Commentaire

L'analyse des oscillogrammes de la figure 2 montre que, comme celle de  $u(t)$ , la courbe représentant  $i(t)$  varie sinusoidalement au cours du temps.

De plus, il y a constamment le même décalage horaire entre les deux oscillogrammes. Par conséquent, l'intensité  $i(t)$  varie avec la même fréquence que la tension  $u(t)$  imposée par le GBF et non avec la fréquence propre du circuit RLC série : les oscillations imposées par le GBF ne sont plus libres, elles sont forcées. Ainsi, le GBF a joué le rôle d'excitateur.

La forme lineaire de la courbe representant  $U_{R_{om}}$  en fonction de  $U_m$  montre que le quotient

$\frac{U_m}{I_m}$  est une constante qui ne depend que des caractéristiques de l'oscillateur. On

l'appelle impédance du circuit et on la note  $Z$ .

### Interprétation théorique

Pour le circuit utilise precedemment, la loi des mailles s'ecrit :

$$u_{BM} + u_{DB} + u_{AD} + (-u_{AM}) = 0 \quad \text{d'où} \quad u_{AM} = u_{BM} + u_{DB} + u_{AD}$$

donc  $u_{AM} = R_0 i + ri + L \frac{di}{dt} + \frac{q}{C}$  or  $q = \int idt$

$u_{AM}$  devient :  $u_{AM} = R_0 i + ri + L \frac{di}{dt} + \frac{1}{C} \int idt$  et  $R = R_0 + r$  avec  $\omega = 2\pi N$

$$u_{AM} = Ri + L \frac{di}{dt} + \frac{1}{C} \int idt$$

Une telle équation différentielle à second membre non nul admet comme solution particulière celle du régime permanent :  $i(t) = I_m \sin(\omega t + \varphi)$

### Conclusion

La réponse d'un circuit RLC série a une tension sinusoidale est un courant alternatif sinusoidal y oscillant :

- à la fréquence  $N$  de la tension excitatrice,

- avec une amplitude  $I_m = \frac{U_m}{Z}$  , où  $Z$  est une grandeur physique ayant la

dimension d'une résistance appelée impédance du circuit RLC série.

## 1.2 Déphasage

### Définition

On appelle déphasage entre deux fonctions sinusoïdales de phases initiales  $\varphi_1$  et  $\varphi_2$  et de même période, la différence de phase  $\Delta\varphi = (\varphi_2 - \varphi_1)$  ou  $(\varphi_1 - \varphi_2)$ .

Les chronogrammes (1) et (2) de chacune des figures (4a) et (4b) représentent deux tensions  $u_1$  et  $u_2$  synchrones (de même période et simultanées) et de phases initiales  $\varphi_1$  et  $\varphi_2$ .

Dans le premier cas (Fig.4a),  $u_1$  et  $u_2$  sont dites en phase ou en concordance de phase tandis que dans le deuxième cas (Fig.4b),  $u_1$  et  $u_2$  sont dites en opposition de phase.

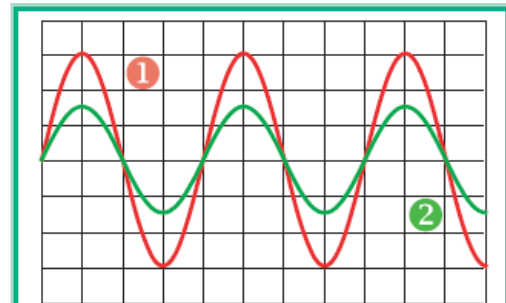


Fig.4a : Tensions  $u_1$  et  $u_2$  en concordance de phase

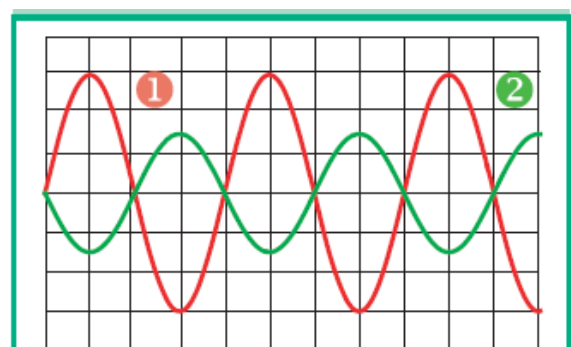
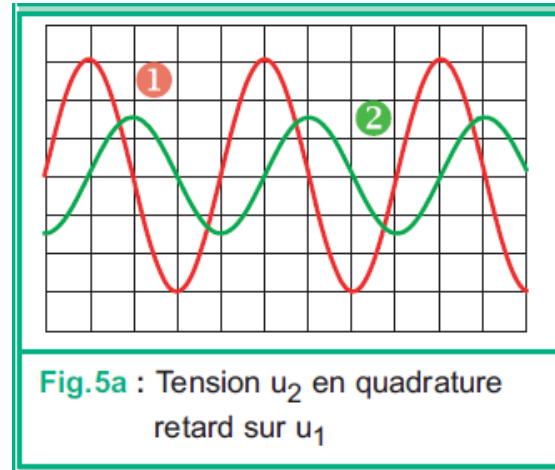


Fig.4b : Tensions  $u_1$  et  $u_2$  en opposition de phase

Les chronogrammes ci-contre montrent que la tension  $u_2$  en quadrature retard sur  $u_1$ .



### Conclusion

A tout décalage horaire  $\Delta t$  entre deux fonctions sinusoïdales  $y_1(t)$  et  $y_2(t)$  isochrones (de même période  $T$ ), représentées dans le même système d'axes, est associé un

déphasage  $\Delta\varphi$  tel que :  $|\Delta\varphi| = 2\pi \frac{\Delta t}{T}$

- Si  $\Delta t = 0$ ,  $\Delta\varphi = 0$  : les deux fonctions sont en concordance de phase.
- Si  $\Delta t = \frac{T}{2}$ ,  $\Delta\varphi = \pi$  rad : les deux fonctions sont en opposition de phase.
- Si  $\Delta t = \frac{T}{4}$ ,  $\Delta\varphi = \frac{\pm\pi}{2}$  rad : les deux fonctions sont en quadrature de phase.

Si le déphasage ( $\varphi_2 - \varphi_1$ ) est positif,  $y_2(t)$  est en avance de phase par rapport à  $y_1(t)$  et inversement.

## 2. Influence de la fréquence d'excitation sur la réponse d'un circuit RLC série

### Expérience

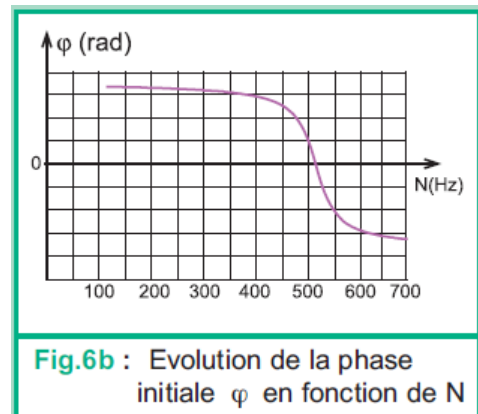
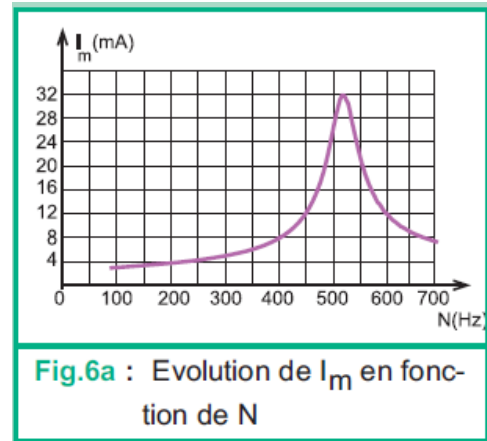
On reprend le montage de la figure 1 ou le générateur BF délivre une tension  $u(t) = U_m \sin 2\pi Nt$ , avec  $U_m = 2$  V. En faisant varier la fréquence  $N$  des excitations, on constate qu'à chaque fois, la tension  $u_{R_0}(t)$  conserve la même forme sinusoïdale mais avec changement de sa valeur maximale  $U_{R_{0m}}$  et de son décalage horaire  $\Delta t$  par rapport à  $u(t)$ .

Dans une deuxième étape, on réalise une série de mesures de l'intensité maximale  $I_m$  et du décalage horaire  $\Delta t$  entre  $u(t)$  et  $i(t)$  en fonction de la fréquence  $N$  du GBF.

Les résultats des mesures ont permis d'obtenir :

- le trace de la figure 6a représentant l'évolution de l'amplitude  $I_m$  de l'intensité  $i$  en fonction de  $N$ .

- le trace de la figure 6b représentant l'évolution de la phase initiale  $\varphi$  de l'Intensité  $i$  en fonction de  $N$ .



### Remarque

Il est pratique aussi de suivre à l'aide d'un ampèremètre l'évolution de l'intensité efficace  $I$  en fonction de la fréquence  $N$ .

### Conclusion

En régime forcé sinusoïdal, l'intensité maximale  $I_m$  et la phase initiale  $\varphi$  du courant oscillant dans un circuit RLC série dépendent de la fréquence  $N$  de la tension excitatrice et des grandeurs  $R$ ,  $L$  et  $C$  caractéristiques de l'oscillateur.

La réponse d'un circuit RLC série à une tension sinusoïdale de fréquence  $N$  égale à la **fréquence propre  $N_0$  du circuit** est un courant oscillant en phase avec la tension excitatrice et avec l'**intensité maximale la plus élevée** : c'est la **résonance d'intensité**. A la résonance d'intensité, le **circuit RLC** série se comporte comme un résistor de **résistance  $R$** .

### Interprétation théorique

$$i(t) = I_m \sin(\omega t + \varphi).$$

Pour déterminer l'amplitude  $I_m$  et la phase initiale  $\varphi$  de  $i(t)$ , il est commode de recourir à la construction de Fresnel.

### Valeur maximale $I_m$ et phase initiale $\varphi$ de l'intensité $i$ du courant

On a :  $Ri + L \frac{di}{dt} + \frac{1}{C} \int idt = U_m \sin(\omega t)$  avec  $R = R_0 + r$

$$\frac{di}{dt} = \omega I_m \sin(\omega t + \varphi + \frac{\pi}{2}) \quad \text{et} \quad \int idt = \frac{I_m}{\omega} \sin(\omega t + \varphi - \frac{\pi}{2}) + cte \quad \text{l'équation devient:}$$

$$RI_m \sin(\omega t + \varphi) + L\omega I_m \sin(\omega t + \varphi + \frac{\pi}{2}) + \frac{I_m}{C\omega} \sin(\omega t + \varphi - \frac{\pi}{2}) = U_m \sin(\omega t)$$

Étant une fonction sinusoïdale,  $U_m \sin \omega t$  ne peut être qu'une somme de fonctions sinusoidales. Donc,  $cte = 0$ .

Représentations de Fresnel :

$$RI_m \sin(\omega t + \varphi) \rightarrow \vec{OA}_1 \quad [RI_m, \varphi]$$

$$L\omega I_m \sin(\omega t + \varphi + \frac{\pi}{2}) \rightarrow \vec{OA}_2 \quad [L\omega I_m, \varphi + \frac{\pi}{2}]$$

$$\frac{I_m}{C\omega} \sin(\omega t + \varphi - \frac{\pi}{2}) \rightarrow \vec{OA}_3 \quad [\frac{I_m}{C\omega}, \varphi - \frac{\pi}{2}]$$

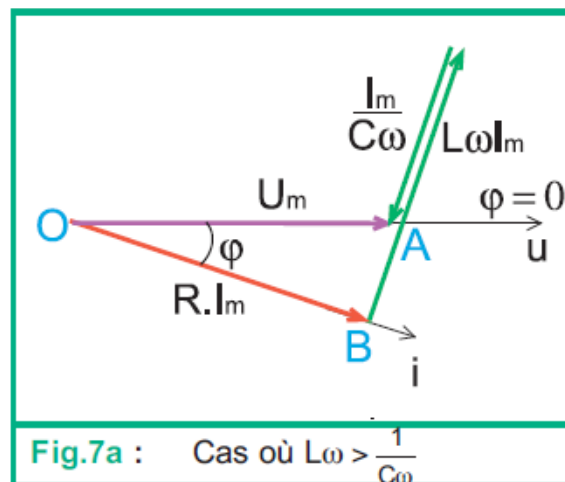
$$U_m \sin(\omega t) \rightarrow \vec{OA} \quad [U_m, 0] \quad \text{tel que :} \quad \vec{OA} = \vec{OA}_1 + \vec{OA}_2 + \vec{OA}_3$$

Les vecteurs de Fresnel  $\vec{OA}_2$  et  $\vec{OA}_3$  étant de sens contraire, il en résulte trois constructions possibles :

- $\|\vec{OA}_2\| > \|\vec{OA}_3\|$  cas correspondant à  $L\omega > \frac{1}{C\omega}$  c'est-à-dire  $N > N_0$  : il donne

la construction de la fig 7a.

**Le circuit est dit inductif**

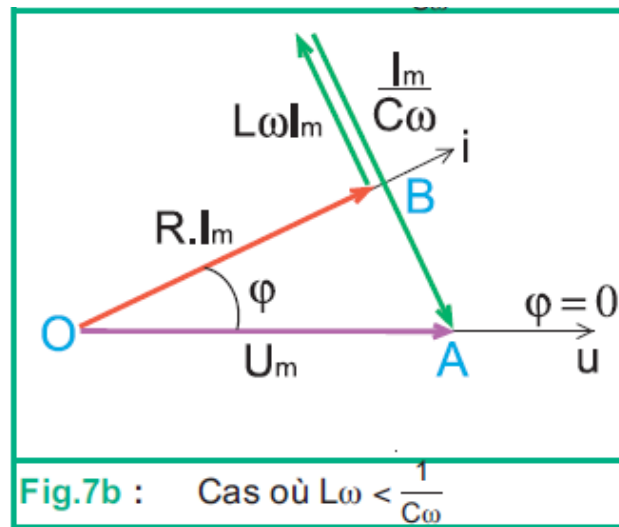


**Fig.7a :** Cas où  $L\omega > \frac{1}{C\omega}$

- $\|\vec{OA}_2\| < \|\vec{OA}_3\|$  cas correspondant à  $L\omega < \frac{1}{C\omega}$  c'est-à-dire  $N < N_0$  il

donne la construction 7b.

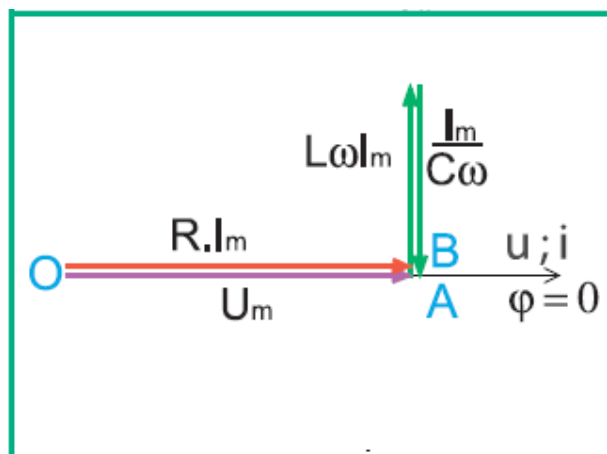
**Le circuit est dit capacitif**



- $\|\vec{OA}_2\| = \|\vec{OA}_3\|$  cas correspondant à  $L\omega = \frac{1}{C\omega}$  c'est-à-dire  $N = N_0$  il

donne la construction 7c.

**Résonance d'intensité**  
**Le circuit est dit résistif**



Dans le cas général :  $U_m^2 = (RI_m)^2 + (L\omega I_m - \frac{I_m}{C\omega})^2$  d'où  $U_m = \sqrt{R^2 + (L\omega - \frac{1}{C\omega})^2} I_m$

donc 
$$I_m = \frac{U_m}{\sqrt{R^2 + (L\omega - \frac{1}{C\omega})^2}}$$

soit  $I_m = \frac{U_m}{Z}$  avec  $Z = \sqrt{R^2 + (L\omega - \frac{1}{C\omega})^2}$  l'impédance du circuit.

D'après la figure 7a,  $L\omega > \frac{1}{C\omega}$ , on a  $\varphi < 0$  ça signifie que l'intensité  $i(t)$  est en **retard de phase** par rapport à la tension excitatrice  $u(t)$  : le circuit RLC est inductif.

D'après la figure 7b,  $L\omega < \frac{1}{C\omega}$ , on a  $\varphi > 0$  ça signifie que l'intensité  $i(t)$  est en **avance de phase** par rapport à la tension excitatrice  $u(t)$  : le circuit RLC est capacitif.

D'après les constructions précédentes:  $|\tan \varphi| = \frac{|L\omega - \frac{1}{C\omega}|}{R}$  en tenant compte de

la dépendance du signe de  $\varphi$  de celui  $(L\omega - \frac{1}{C\omega})$  la phase initiale de  $i$  est telle

que:  $\tan \varphi = \frac{\frac{1}{C\omega} - L\omega}{R}$  avec  $-\frac{\pi}{2} < \varphi < \frac{\pi}{2}$

on peut tenir compte aussi,  $\cos \varphi = \frac{R}{Z}$

### Résonance d'intensité

L'impédance du circuit s'écrit :  $Z = \sqrt{R^2 + (L\omega - \frac{1}{C\omega})^2}$

Aux très basses pulsations ainsi qu'aux pulsations beaucoup plus élevées que la pulsation propre  $\omega_0$  de l'oscillateur, l'écart entre  $L\omega$  et  $\frac{1}{C\omega}$  augmente. Par suite, l'impédance devient de plus en plus grande.

Donc, dans l'un ou dans l'autre cas,  $I_m(\omega) = \frac{U_m}{Z} \rightarrow 0$  ce qui signifie que la réponse du circuit RLC série devient de plus en plus faible. Cette réponse s'améliore lorsque



Z prend une valeur modérée, ce qui n'est possible qu'avec des valeurs comparables de  $L\omega$  et de  $\frac{1}{C\omega}$ .

Dans le cas où  $L\omega = \frac{1}{C\omega}$  obtenu avec  $\omega = \omega_0 = \frac{1}{\sqrt{LC}}$ , l'impédance Z est minimale  $Z = R$ . Par conséquent, l'intensité maximale prend sa valeur la plus

élevée  $I_{m0} = \frac{U_m}{R}$  c'est la **résonance d'intensité**.

$$\tan \varphi = \frac{\frac{1}{C\omega} - L\omega}{R} = 0 \text{ ce qui signifie que la tension } u \text{ et l'intensité sont en phase.}$$

L'appellation d'un oscillateur en régime forcé comme étant un résonateur revient au phénomène de résonance

La réponse d'un circuit RLC série à une tension sinusoïdale de fréquence N égale à la fréquence propre  $N_0$  du circuit est un courant oscillant en phase avec la tension excitatrice et avec l'intensité maximale la plus élevée : c'est la résonance d'intensité.

$$N = N_0 = \frac{1}{2\pi\sqrt{LC}} : \text{ Résonance d'intensité } \Leftrightarrow \begin{cases} I_m \text{ est la plus élevée} \\ u \text{ et } i \text{ sont en phase} \end{cases}$$

### 3. Puissance moyenne et facteur de puissance

#### Puissance moyenne

La puissance moyenne d'un dipôle D est la valeur moyenne prise par sa puissance instantanée  $p(t)$  sur une très grande durée  $\Delta t$  (tendant vers l'infini).

Lorsque  $p(t)$  est périodique, il est équivalent de prendre  $\Delta t$  égale à une période.

$$\text{La puissance moyenne } P = UI \cos \varphi$$

avec  **$\cos \varphi$**  s'appelle **facteur de puissance**