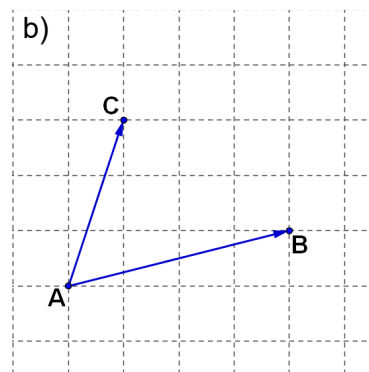
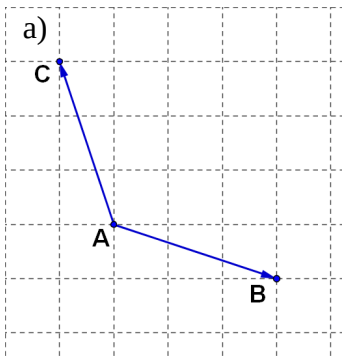


Vecteurs : exercices série 1

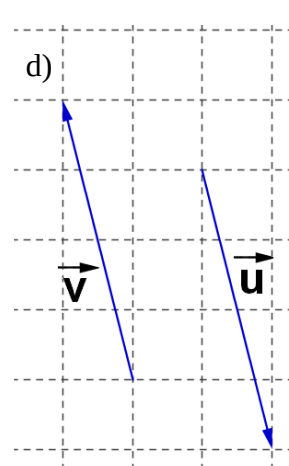
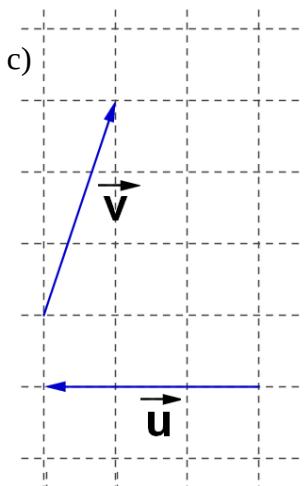
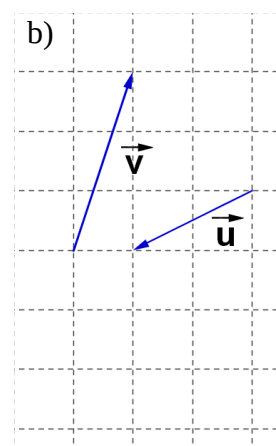
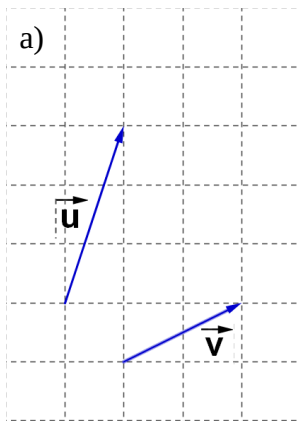
Exercice 1

Recopier les figures suivantes et construire le vecteur $\vec{AB} + \vec{AC}$ dans chacun des cas .



Exercice 2

Recopier les figures suivantes et construire le vecteur $\vec{u} + \vec{v}$ dans chacun des cas.



Exercice 3

Reprendre les figure de l'exercice 1 construire le vecteur $\vec{AB} - \vec{AC}$ dans chacun de ces cas .

Exercice 4

Reprendre les figure de l'exercice 2 construire le vecteur $\vec{u} - \vec{v}$ dans chacun de ces cas.