

Sujet Bacc série C avec corrigé – Session 2017

1. Chimie organique

L'éthanoate de 3-méthyl butyle, que l'on désignera par E, est utilisé en solution alcoolique, comme arôme de poire, dans certains sirops, ce liquide a une masse volumique $a = 870 \text{ kg} \cdot \text{m}^{-3}$.

1- Écrire la formule semi-développée de 3-méthyl butan-1-ol, puis celle de E. Quelle est la fonction chimique de E.

2- Pour préparer E au laboratoire, on fait réagir, à ébullition pendant une heure, 53g d'acide éthanoïque, avec 33g de 3-méthyl butan-2-ol, en présence d'acide sulfurique.

a) Pourquoi cette préparation a-t-elle lieu à chaud ?

b) Quel est le rôle de l'acide sulfurique ?

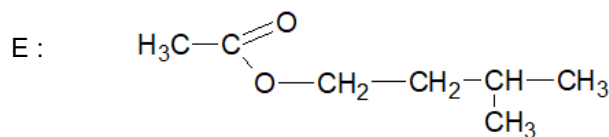
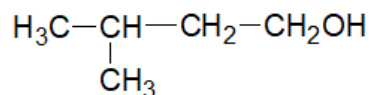
c) Après purification, on recueille 36 cm^3 de E. Quelle est la masse de E obtenue ?

La comparait à celle qu'aurait donnée la transformation totale de l'alcool utilisé.

On donne : $M(\text{C}) = 12 \text{ g} \cdot \text{mol}^{-1}$; $M(\text{H}) = 1 \text{ g} \cdot \text{mol}^{-1}$; $M(\text{O}) = 16 \text{ g} \cdot \text{mol}^{-1}$.

1- FSD :

3 – méthyl butan-2-ol



2- a) La préparation a lieu à chaud pour un rendement maximal puis pour accélérer la réaction.

b) Le rôle de l'acide sulfurique est catalyseur.

c) Masse de E obtenue : $m_{E1} = a \cdot V_E = 870 \cdot 36 \cdot 10^{-6} = 31 \text{ g}$

Comparaison si la transformation est totale : $m_{E2} = n_E \cdot M_E$ avec $n_E = n_{al} = \frac{33}{88} = 0,375$

$m_{E2} = 0,375 \cdot 130 = 48,75 \text{ g}$ donc $m_{E1} < m_{E2}$

2. Chimie minérale

A 25°C , une solution aqueuse (S) d'acide éthanoïque de concentration molaire $C_a = 10^{-2} \text{ mol/L}$ a un $\text{pH} = 3,4$.

1- a) Montrer que l'acide éthanoïque est un acide faible

b) Écrire l'équation bilan traduisant la réaction de l'acide éthanoïque avec l'eau.

2- Le coefficient d'ionisation de cet acide est $\alpha = 0,04$.

a) Démontrer que : $\frac{[\text{CH}_3\text{COO}^-]}{[\text{CH}_3\text{COOH}]} = \frac{\alpha}{1-\alpha}$

b) En déduire le pKA du couple $\text{CH}_3\text{COOH} / \text{CH}_3\text{COO}^-$.

3- Maintenant, on prend un volume 10^{-2}l de la solution (S) précédente. On veut obtenir une nouvelle solution (S') de pH = 4 en ajoutant dans (S) un volume d'eau distillée V_e .

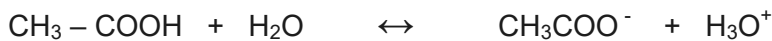
a) Déterminer le volume V_e

b) En déduire le volume de la solution (S')

1- a) si l'acide est fort $\text{pH} = -\log C_A = 2$ or $\text{pH} = 3,4$ donc l'acide est faible.

$$\text{Ou } [\text{H}_3\text{O}^+] = 10^{-3,4} = 4 \cdot 10^{-4} \text{ mol/L} < C_A = 10^{-2} \text{ mol/L.}$$

b) Réaction d'acide éthanoïque avec l'eau



$$2- \text{ a) } \alpha = \frac{[\text{CH}_3\text{COO}^-]}{C} \rightarrow [\text{CH}_3\text{COO}^-] = C \alpha$$

$$[\text{CH}_3\text{COOH}] + [\text{CH}_3\text{COO}^-] = C \rightarrow [\text{CH}_3\text{COOH}] = C - C \alpha = C(1 - \alpha)$$

$$\text{d'où } \frac{[\text{CH}_3\text{COO}^-]}{[\text{CH}_3\text{COOH}]} = \frac{C \alpha}{C(1 - \alpha)} = \frac{\alpha}{1 - \alpha} \quad \text{cqfd}$$

$$\text{b) } \text{p}K_A = \text{pH} - \log \frac{\alpha}{1 - \alpha} \quad \text{AN : } \text{p}K_A = 3,4 - \log 0,042 = 4,78$$

$$3- \text{ a) } \text{pH} = 4 \quad C'V' = CV \quad V_e = \frac{CV}{[A] + [B]} - V$$

$$\text{avec } \frac{[A]}{[B]} = 10^{\text{p}K_A - \text{pH}} \quad [A] = 6,02 \cdot 10^{-4} \text{ mol/L} \quad [B] = [\text{H}_3\text{O}^+] = 10^{-4} \text{ mol/L}$$

$$C' = [A] + [B] = 7,02 \cdot 10^{-4} \text{ mol/L} = \frac{CV}{V_e + V}$$

$$V_e = \frac{CV}{C'} - V \rightarrow V_e = \frac{10^{-2} \cdot 10^{-2}}{7,02 \cdot 10^{-4}} - 10^{-2} = 13,24 \cdot 10^{-2} \text{ L}$$

$$\text{b) } V' = V_e + V = 13,24 \cdot 10^{-2} + 10^{-2} = 14,24 \cdot 10^{-2} \text{ L}$$

3. Physique nucléaire

L'isotope du potassium ${}^{40}_{19}\text{K}$ est un radioactif émetteur β^+ . Il se transforme en argon Ar stable.

1) Écrire l'équation de désintégration du noyau de potassium 40.

2) a- Définir la période radioactive T.

b- Montrer que le nombre N de noyau de potassium 40, à l'instant t, peut s'écrire : $N = N_0 2^{-\frac{t}{T}}$ avec N_0 est le nombre de noyau de potassium 40 à $t = 0$.

3) On se propose d'utiliser le potassium 40 contenu dans une roche pour déterminer son âge. En effet, tant que la roche est liquide, l'argon formé par radioactivité s'échappe de cette roche. Lorsque la roche se

solidifie, l'argon gazeux reste enfermer dans la roche. Il est alors possible de mesurer r définie par :

$$r = \frac{\text{nombre de noyaux d'argon}}{\text{nombre de noyaux de potassium 40}}$$

Écrire r en fonction de T et de t et calculer t sachant que $r = 7.10^{-4}$; $T = 1,3.10^9$ s



2) a- Période radioactive : temps mis au bout duquel la moitié de noyaux initialement présents sont désintégrés.

$$b- \quad N = N_0 e^{-\lambda t} \quad \text{et} \quad \lambda = \frac{\ln 2}{T} \quad \rightarrow \quad N = N_0 e^{\frac{-\ln 2 \cdot t}{T}} = N_0 e^{\frac{-t}{T} \ln 2} \quad \rightarrow \quad N = N_0 2^{\frac{-t}{T}} \quad \text{cqfd}$$

$$3) \quad r = \frac{N_0 - N_0 e^{-\lambda t}}{N_0 e^{-\lambda t}} \quad \rightarrow \quad r = e^{\lambda t} - 1 = e^{\frac{t \cdot \ln 2}{T}} - 1 \quad \rightarrow \quad r = 2^{\frac{t}{T}} - 1$$

$$\text{Calcul de } t : \quad \frac{t}{T} = \frac{\ln(r+1)}{\ln 2} \quad \rightarrow \quad t = \frac{T \cdot \ln(r+1)}{\ln 2} \quad \text{AN : } r = 1,31.10^6 \text{ans}$$

4. Optique géométrique

On considère une lentille mince de centre optique O et de distance focale $f' = \overline{OF'} = -\overline{OF}$ (F et F' sont les foyers objet et image de la lentille). Un objet AB est placé perpendiculairement sur l'axe optique tel que $\overline{OA} = k \overline{OF}$ où k est un nombre réel différent de 1 ($k \neq 1$).

1) Montrer que le grandissement peut s'écrire : $\gamma = \frac{1}{1-k}$

2) D'abord, on prend $k = \frac{2}{3}$. L'objet AB est réel, placé à 15cm d'une lentille mince notée L .

a- Où se trouve l'image $A'B'$ de AB .

b- Calculer la distance focale f' de la lentille L . En déduire la nature de cette lentille.

3) On prend maintenant $k = \frac{1}{2}$

a- Déterminer alors la distance focale d'une nouvelle autre lentille L' correspondant à la valeur k .

En déduire sa nature.

b- Faire la construction graphique de l'image $A'B'$ de l'objet virtuel AB de hauteur 3cm, situé à 15cm de la lentille L' , Échelle : $\frac{1}{5}$ sur l'axe optique, en vraie grandeur pour AB .

1) $\overline{OA} = -k f'$ et $\gamma = \frac{\overline{OA'}}{\overline{OA}}$ D'après la relation de conjugaison :

$$\overline{OA'} = \frac{f' \overline{OA}}{\overline{OA} + f'} = \frac{f' \cdot (-k f')}{-k f' + f'} = \frac{-k f'}{1-k} \quad \text{donc} \quad \gamma = \frac{-k f'}{(-k f') \cdot (1-k)} = \frac{1}{1-k} \quad \text{cqfd}$$

2) a- $\gamma = \frac{1}{1 - \frac{2}{3}} = 3 \quad \rightarrow \quad \overline{OA'} = 3 \overline{OA} \quad \text{AN : } \overline{OA'} = 3 \cdot (-15) = -45 \text{ cm}$

$A'B'$ se trouve à 45cm devant la lentille.

b- Distance focale f'

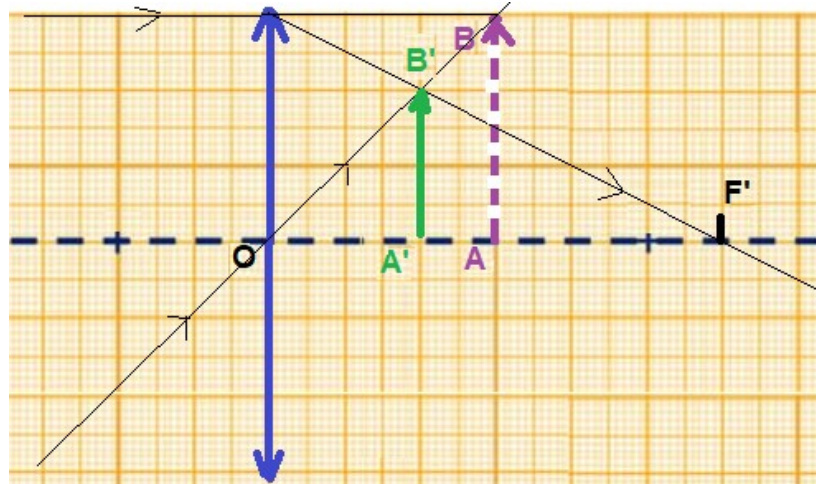
$$\frac{1}{\overline{OA'}} - \frac{1}{\overline{OA}} = \frac{1}{f'} \quad \rightarrow \quad \frac{1}{f'} = \frac{-2}{3\overline{OA}} \quad \rightarrow \quad f' = \frac{-3}{2}\overline{OA} \quad \rightarrow \quad f' = 22,5\text{cm} > 0$$

L est une lentille convergente.

3) a- distance focale de L'

$$f' = \frac{-\overline{OA}}{k} \quad \text{AN :} \quad f' = \frac{-(-15) \cdot 2}{1} = 30\text{cm} > 0 \quad \text{donc L' convergente.}$$

b- l'objet est maintenant virtuel pour L', construction de l'image



5. Électromagnétisme

A. On néglige le poids de chaque ion par rapport aux forces électrostatiques et force magnétiques. Pour obtenir la séparation de deux isotopes de ${}^3_2\text{He}$ et ${}^4_2\text{He}$; on utilise le dispositif expérimental représenté par la figure 1 des deux particules précédentes des vitesses initiales nulles, des masses m_1 et m_2 (m_1 est la masse de noyau ${}^3_2\text{He}$ et m_2 est la masse de noyau ${}^4_2\text{He}$) sont soumises à l'action d'un champ magnétique uniforme \vec{B} orthogonal aux vecteurs \vec{v}_1 et \vec{v}_2 et normal au plan de la figure.

1) Exprimer les vitesses v_1 en fonction de e , U_0 et m_1 ; v_2 en fonction de e , U_0 et m_2 .

Que vaut le rapport $\frac{v_1}{v_2}$? (On considérera que la masse d'un neutron $m_n \approx m_p = 1,67 \cdot 10^{-27}\text{kg}$.)

2) Montrer que sous l'action du champ magnétique, les noyaux d'hélium décrivent des trajectoires circulaires dont on déterminera les rayons R_1 et R_2 . Évaluer le rapport $\frac{R_1}{R_2}$.

3) AA' étant le diamètre de la trajectoire des ions ${}^4_2\text{He}^{2+}$.

Calculer la distance A'A " des deux points d'impact.

Application numérique : $U_0 = 10^4\text{V}$, $B = 1\text{T}$.

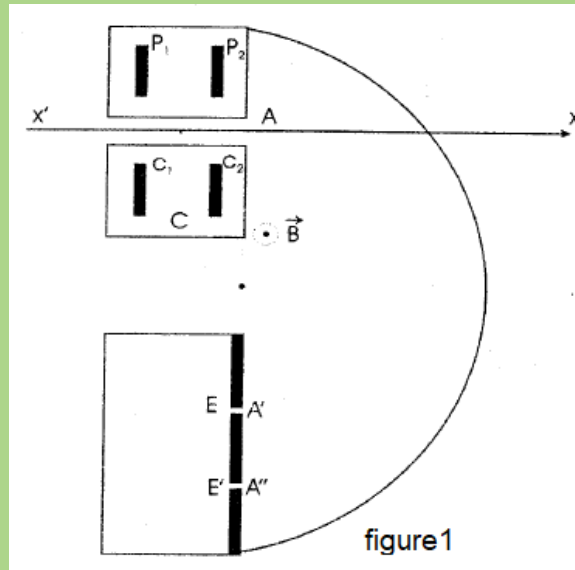


figure 1

$$1) \text{ TEC : } \frac{1}{2} m_1 v_1^2 = 2 e U_0 \quad \rightarrow \quad v_1 = \sqrt{\frac{4 e U_0}{m_1}} \quad \text{et} \quad v_2 = \sqrt{\frac{4 e U_0}{m_2}} \quad \rightarrow \quad \frac{v_1}{v_2} = \sqrt{\frac{m_2}{m_1}} \quad \text{avec}$$

$$m_1 = 3 \times 1,67 \cdot 10^{-27} \text{ kg} \quad ; \quad m_2 = 4 \times 1,67 \cdot 10^{-27} \text{ kg}$$

$$\frac{v_1}{v_2} = \sqrt{\frac{1}{3}} = 1,15$$

2) Dans un champ magnétique, chaque ion est soumis à une force magnétique \vec{F} toujours orthogonal au vecteur induction magnétique \vec{B} . La trajectoire de cet ion est donc dans le plan passant par A, perpendiculaire à la direction de \vec{B} : plan de figure. D'autre part, cette force magnétique $\vec{F} = m \vec{a}$ est toujours orthogonal au vecteur vitesse \vec{v} de l'ion.

Donc son mouvement est uniforme, de vitesse numérique égale à sa vitesse d'entrée dans le champ magnétique et son accélération est $a_n = \frac{v^2}{R}$ où R est le rayon de courbure de la trajectoire.

Or on a $F = 2evB$, donc le TCI s'écrit $2evB = \frac{mv^2}{R} \rightarrow R = \frac{mv}{2eB} = \text{constant}$ la trajectoire dans le champ magnétique est circulaire.

$$\text{Le rayon de la trajectoire pour } {}^3_2\text{He} : R_1 = \frac{m_1 v_1}{2eB} \quad \text{AN : } R_1 = 0,01769\text{m} = 17,69\text{mm.}$$

$$\text{Le rayon de la trajectoire pour } {}^4_2\text{He} : R_2 = \frac{m_2 v_2}{2eB} \quad \text{AN : } R_2 = 0,02358\text{m} = 23,58\text{mm.}$$

$$\text{Le rapport } \frac{R_1}{R_2} = \frac{17,69}{23,58} = 0,75$$

$$3) A'A'' = AA'' - AA' \quad \rightarrow \quad A'A'' = 2R_2 - 2R_1 = 2(R_2 - R_1)$$

$$\text{AN : } \mathbf{A'A'' = 11,76\text{mm.}} \quad \text{Voir figure 1.}$$

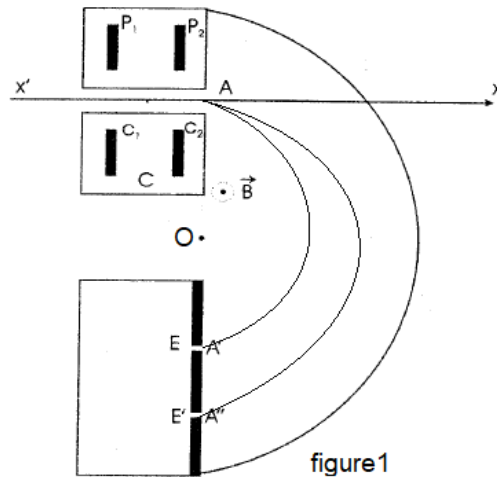


figure 1

B- Un circuit comprend un condensateur de capacité C et une bobine d'inductance L de résistance interne $R = 70,7\Omega$. L'ensemble du circuit est soumis à une tension sinusoïdale u telle que $u(t) = U\sqrt{2}\sin(\omega t + \varphi_u)$ avec U est la tension efficace de valeur $U = 150V$.

Ce circuit est parcouru par un courant d'intensité efficace $I = 1,5A$. La tension efficace aux bornes du condensateur vaut $U_C = 77,62V$.

- 1) Calculer l'impédance Z du circuit.
- 2) Sachant que l'impédance du condensateur est inférieure à celle du bobine .
 - a- Calculer le déphasage entre la tension $u(t)$ et l'intensité $i(t)$.
 - b- En déduire l'expression de l'intensité $i(t)$ en fonction de t , ω et φ_u .
- 3) On désigne par φ_B la phase de la tension aux bornes de la bobine par rapport à l'intensité du courant I .
Démontrer par calcul à l'aide de diagramme de Fresnel que $\varphi_B = \frac{\pi}{3}$.

$$1) \quad Z = \frac{U}{I} = \frac{150}{1,5} = 100 \Omega$$

$$2) \quad a- \quad \cos \varphi = \frac{R}{Z} \quad \rightarrow \quad \cos \varphi = \frac{70,7}{100} = 0,707 \quad \text{le circuit est inductif} \quad \rightarrow \quad \varphi > 0 \quad \varphi = \frac{\pi}{4} \text{ rad}$$

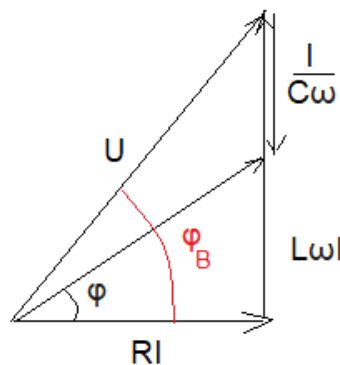
b- Expression de $i(t)$

$$u(t) \text{ en avance de } \varphi \text{ par rapport à } i(t) \text{ donc} \quad i(t) = 1,5\sqrt{2} \cos(\omega t + \varphi_u - \frac{\pi}{4})$$

3) Diagramme de Fresnel du circuit

$$\tan \frac{\pi}{4} = \frac{U_L - U_C}{U_R} \quad \rightarrow \quad 1 = \frac{U_L - U_C}{U_R}$$

$$U_L = U_R + U_C$$



$$\tan \varphi_B = \frac{U_L}{U_R} = \frac{U_R + U_C}{U_R}$$

$$\text{d'où} \quad \varphi_B = \frac{\pi}{3} \text{ rad}$$

$$\text{AN : } \tan \varphi_B = \frac{(70,7 \times 1,5) + 77,62}{(70,7 \times 1,5)} = 1,73$$

6. Mécanique

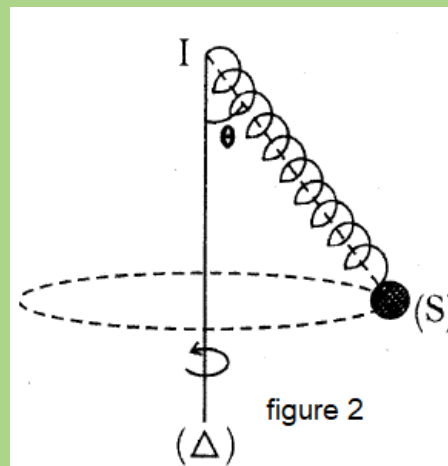
Dans tous les problèmes les frottements sont négligeables et on prendra $g = 10 \text{ m.s}^{-2}$.

Les parties A et B sont indépendantes.

Partie A.

On considère un corps (S) supposé ponctuel de masse $m = 100 \text{ g}$. On fixe le corps (S) à l'extrémité inférieure d'un ressort de longueur à vide $\ell_0 = 12 \text{ cm}$ et de constante de raideur $k = 50 \text{ N.m}^{-1}$. L'extrémité supérieure est fixée en un point I de l'axe vertical (Δ). Ce dernier tourne avec une vitesse de rotation N (tours/s). Lorsque N est constante, le ressort s'écarte d'un angle θ par rapport à la verticale et le corps (S) décrit un cercle dans un plan horizontal (figure 2). Dans cette condition, la longueur du ressort devient $\ell = 16 \text{ cm}$.

- 1) Déterminer la valeur de l'angle θ
- 2) Calculer la fréquence N du mouvement



- 1) Valeur de l'angle θ

$$\text{TCl : } \vec{P} + \vec{T} = m\vec{a} \quad \text{suivant l'axe Oy : } T \cos \theta - mg = 0 \quad \text{et} \quad T = k \Delta \ell$$

$$\cos \theta = \frac{mg}{k \Delta \ell} \quad \text{AN : } \cos \theta = \frac{1}{2} \quad \rightarrow \quad \theta = 60^\circ$$

- 2) Fréquence N du mouvement

$$\text{suivant l'axe Ox : } T \sin \theta = m \ell \sin \theta \omega^2 \quad \rightarrow \quad T = m \ell \omega^2$$

$$\rightarrow \quad m \ell \omega^2 = k \Delta \ell \quad \rightarrow \quad m \ell 4 \pi^2 N^2 = k \Delta \ell \quad \rightarrow \quad N^2 = \frac{k \Delta \ell}{4 m \pi^2 \ell} \quad \rightarrow \quad N = \frac{1}{2 \pi} \sqrt{\frac{k \Delta \ell}{m \ell}}$$

$$\mathbf{N = 1,78 \text{ tour/s}}$$

Partie B.

Un ressort de raideur $k = 20\text{N}\cdot\text{m}^{-1}$, retient deux solides (S_1) et (S_2), de masses respectives $M_1 = 0,1\text{kg}$ et $M_2 = 0,2\text{kg}$ reliés par un fil inextensible de masse négligeable et passant par la gorge d'une poulie. La poulie assimilable à un cerceau, est mobile sans frottement autour de son axe vertical de rotation (Δ) et de masse $m = 0,1\text{kg}$. (figure3).

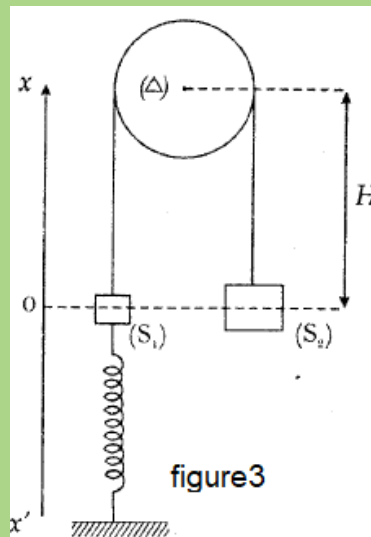
- 1- Calculer l'allongement du ressort lorsque le système est à l'équilibre.
- 2- On tire le solide (S_2) verticalement vers le bas, d'une longueur de 4cm, à partir de sa position d'équilibre puis on l'abandonne à l'instant $t = 0\text{s}$.
 - a- Montrer que le solide (S_1) est animé d'un mouvement rectiligne sinusoïdal suivant l'axe $x'Ox$, O étant la position d'équilibre des solides (S_1) et (S_2).
 - b- Établir l'équation horaire de ce mouvement.
- 3- Montrer que l'énergie mécanique du $\{ S_1, S_2, \text{poulie, ressort} \}$ est constante.

En déduire sa valeur. Application numérique : $H = 0,25\text{m}$.

États de référence :

- le niveau de référence de l'énergie potentielle de pesanteur est le plan passant par le point O et c'est aussi l'origine des altitudes.
- l'énergie potentielle élastique du ressort est nulle lorsqu'il est à vide.

- 4- En appliquant la conservation de l'énergie mécanique, établir l'équation différentielle des mouvements du système $\{ S_1, S_2, \text{poulie et ressort} \}$ en fonction de \ddot{x} et x .



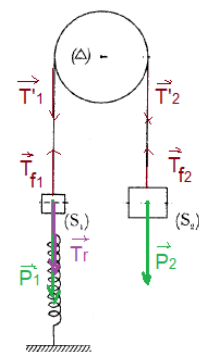
- 1) Calcul de Δl à l'équilibre

Système (S_1) : $\vec{P}_1 + \vec{T}_r + \vec{T}_{f1} = \vec{0}$

suitant $x'Ox$: $T_{f1} = T_r + P_1$ (1)

Système (S_2) : $\vec{P}_2 + \vec{T}_{f2} = \vec{0}$

suitant $x'Ox$: $T_{f2} = P_2$ (2)



Système { poulie }

$$M(\vec{P}) + M(\vec{P}) + M(\vec{T}'_1) + M(\vec{T}'_2) = 0 \quad \rightarrow \quad T_1 = T_2 \quad (3)$$

(1), (2) et (3) donne $Tr = (M_2 - M_1)g \quad \rightarrow \quad k \Delta \ell = (M_2 - M_1)g$

$$\Delta \ell = \frac{(M_2 - M_1)g}{k} \quad \text{AN : } \Delta \ell = 0,03\text{m}$$

2) a- Système (S1) : $\vec{T}_{f1} + \vec{P}_1 + \vec{T}_r = M_1 \vec{a}$

suitant x'Ox : $T_{f1} = M_1 a + k(\Delta \ell + x) + M_1 g \quad (1)$

Système (S2) : $\vec{T}_{f2} + \vec{P}_2 = M_2 \vec{a} \quad \rightarrow \quad T_{f2} = M_2 (g - a) \quad (2)$

Système (poulie) : $T'_1 r - T'_2 r = J_\Delta \ddot{\theta}$ avec $\ddot{\theta} = \frac{a}{r}$ et $a = \ddot{x}$, $J_\Delta = mr^2$

$$\rightarrow T'_1 - T'_2 = ma \quad (3)$$

(1), (2), (3) donne $M_2 g - M_2 a - M_1 a - k(\Delta \ell + x) - M_1 g = ma$

d'après condition d'équilibre : $\ddot{x} + \frac{k}{M_1 + M_2 + m} x = 0$ équation différentielle d'un MRS.

b- $\omega = \sqrt{\frac{k}{M_1 + M_2 + m}} = 5\sqrt{2} \text{ rad/s} = 7,07 \text{ rad/s} \quad \varphi = \frac{\pi}{2} \text{ rad}$

équation horaire du mouvement : $x = 4 \cdot 10^{-2} \sin(7,07 t + \frac{\pi}{2})$ ou $x = 4 \cdot 10^{-2} \cos(7,07 t)$

3) Système : { S1 + S2 + poulie + ressort }

Énergie cinétique : $E_C = \frac{1}{2} M_1 \dot{x}^2 + \frac{1}{2} M_2 \dot{x}^2 + \frac{1}{2} J_\Delta \dot{\theta}^2$ avec $J_\Delta \dot{\theta}^2 = mr^2 \frac{\dot{x}^2}{r^2} = m \dot{x}^2$

$$\rightarrow E_C = \frac{1}{2} (M_1 + M_2 + m) \dot{x}^2 \quad \text{avec } \dot{x}^2 = x_m^2 \omega^2 \cos^2(\omega t + \varphi)$$

$$\rightarrow E_C = \frac{1}{2} (M_1 + M_2 + m) x_m^2 \omega^2 \cos^2(\omega t + \varphi)$$

Énergie potentielle : $E_P = M_1 g x - M_2 g x + mgH + \frac{1}{2} k (\Delta \ell + x)^2$

$$E_P = M_1 g x - M_2 g x + mgH + \frac{1}{2} k \Delta \ell^2 + k \Delta \ell x + \frac{1}{2} k x^2 \quad \text{or } k \Delta \ell x + M_1 g x - M_2 g x = 0 \text{ d'après l'équilibre}$$

il vient $E_P = mgH + \frac{1}{2} k \Delta \ell^2 + \frac{1}{2} k x^2$ avec $x^2 = x_m^2 \sin^2(\omega t + \varphi)$

$$\rightarrow E_P = mgH + \frac{1}{2} k \Delta \ell^2 + \frac{1}{2} k x_m^2 \sin^2(\omega t + \varphi)$$

Énergie mécanique du système : $E_m = E_C + E_P$

$$E_m = \frac{1}{2}(M_1 + M_2 + m)x_m^2 \omega^2 \cos^2(\omega t + \varphi) + mgH + \frac{1}{2}k \Delta \ell^2 + \frac{1}{2}kx_m^2 \sin^2(\omega t + \varphi) \quad \text{or} \quad \omega^2 = \frac{k}{M_1 + M_2 + m}$$

$$E_m = \frac{1}{2}kx_m^2(\cos^2(\omega t + \varphi) + \sin^2(\omega t + \varphi)) + mgH + \frac{1}{2}k \Delta \ell^2$$

$$\rightarrow E_m = \frac{1}{2}kx_m^2 + mgH + \frac{1}{2}k \Delta \ell^2 = cte \quad \text{d'où} \quad \frac{dE_m}{dt} = 0 \quad \text{cqfd}$$

$$4) \quad E_m = \frac{1}{2}(M_1 + M_2 + m)\dot{x}^2 + mgH + \frac{1}{2}k \Delta \ell^2 + \frac{1}{2}kx^2$$

$$\frac{dE_m}{dt} = (M_1 + M_2 + m)\dot{x}\ddot{x} + kx\dot{x} = 0 \quad \rightarrow \quad \ddot{x} + \frac{k}{M_1 + M_2 + m}x = 0$$

$$\text{AN} : \quad \ddot{x} + 50x = 0$$